

MER 17 NOVEMBRE 2021

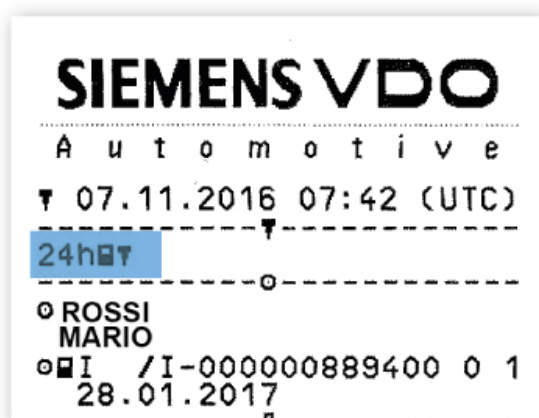
Come faccio a capire dalla stampata del tachigrafo quante ore di guida ha fatto un conducente?

Questa settimana il nostro formatore risponde al quesito di un nostro lettore in merito alle informazioni contenute nella stampata del tachigrafo.

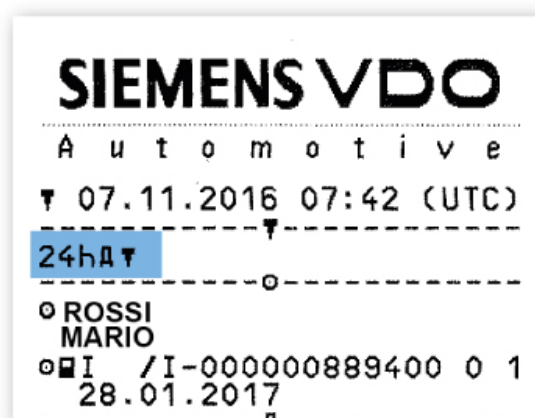
Che cos'è una stampata?

La stampata è un foglio di carta termica sul quale vengono stampate una serie di informazioni contenute sia nella carta tachigrafica, che nel tachigrafo digitale. Tali informazioni sono contenute tra linee tratteggiate definite "sezioni".

STAMPA DELLA GIORNATA DEL CONDUCENTE



STAMPA DELLA GIORNATA DEL VEICOLO



Quando può essere fatta una stampata?

Il conducente può decidere di effettuare una stampa delle proprie attività o dei dati del veicolo in qualsiasi momento della giornata.

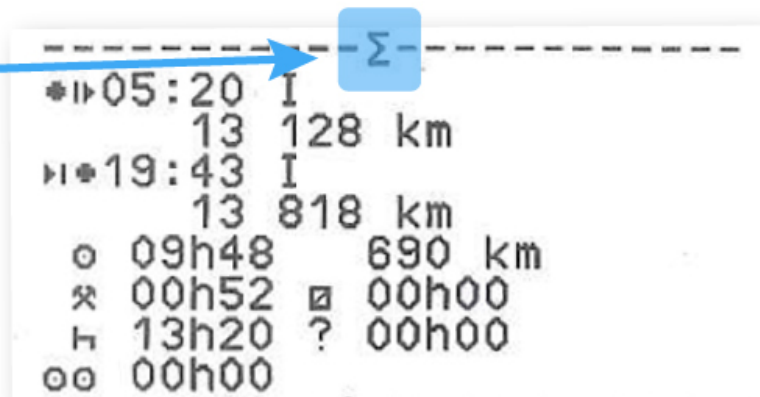
Perché è utile fare una stampata?

La stampata, nel momento in cui viene effettuata, permette di **verificare le attività effettuate** dalla mezzanotte fino al momento della stampa.

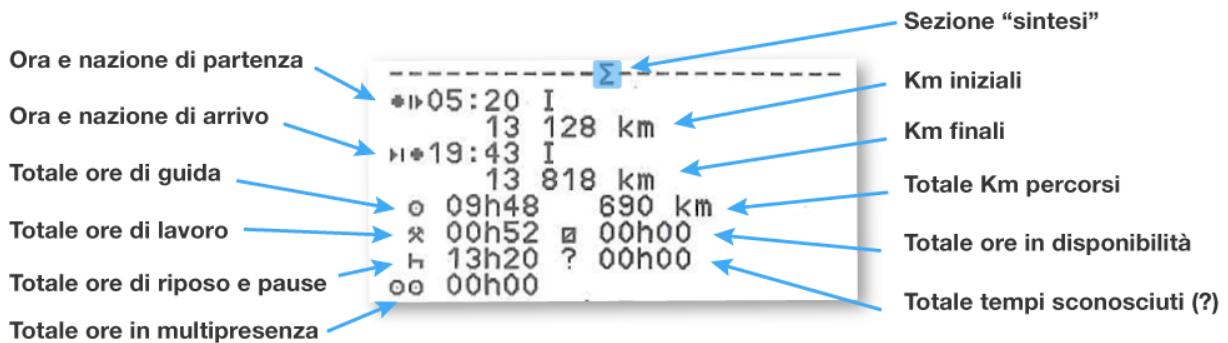
In quale punto della stampa è possibile visionare il totale delle ore di guida effettuate?

La stampata nella sezione contrassegnata con il simbolo della “**sommatoria**” ? contiene la **sintesi delle attività svolte dal conducente** dalla mezzanotte UTC all’ora in cui viene effettuata la stampa.

Sezione di “sintesi” delle attività



-----Σ-----			
*▷05:20	I		
	13	128	km
▷*19:43	I		
	13	818	km
○	09h48		690 km
⊗	00h52	⊗	00h00
⊞	13h20	?	00h00
○○	00h00		



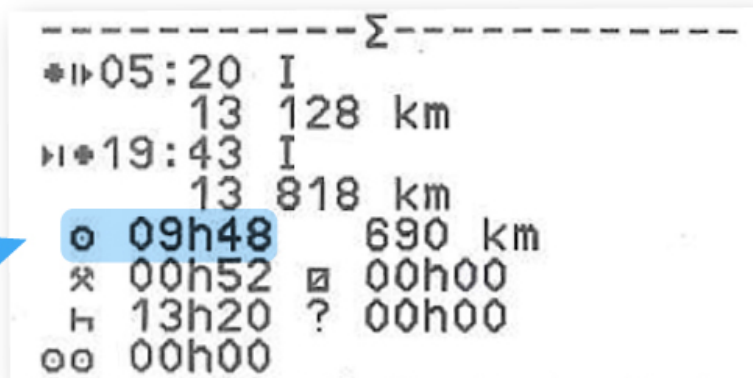
	-----Σ-----				Sezione “sintesi”
Ora e nazione di partenza	*▷05:20	I			Km iniziali
Ora e nazione di arrivo		13	128	km	Km finali
Totale ore di guida	▷*19:43	I			Totale Km percorsi
Totale ore di lavoro		13	818	km	Totale ore in disponibilità
Totale ore di riposo e pause	○	09h48		690 km	Totale tempi sconosciuti (?)
Totale ore in multipresenza	⊗	00h52	⊗	00h00	
	⊞	13h20	?	00h00	
	○○	00h00			

Arriviamo al quesito del nostro lettore, cioè come si capisce dalla stampata quante ore di guida sono state fatte?

Osservando l’immagine il totale ore di guida effettuate si evince dal numero presente di fianco al simbolo del “volante” ?

Nell'esempio qui sotto è possibile vedere che le **ore di guida giornaliere** svolte dal conducente sono state: **09 ore e 48 minuti**

Ore di guida
giornaliere
del conducente



-----Σ-----			
*I	05:20	I	
	13	128	km
PI	19:43	I	
	13	818	km
o	09h48		690 km
⌘	00h52	⌘	00h00
H	13h20	?	00h00
oo	00h00		

Altri articoli che ti potrebbero interessare

Articoli sulle stampe del tachigrafo

© TachConsulting - Riproduzione riservata